




Name: .....

1 Nutze die Kraft der Fünf. Wie viele sind es zusammen?




$$6 + 3 = \dots\dots$$



$$5 + 5 = \dots\dots$$



$$8 + 1 = \dots\dots$$



$$5 + 3 = \dots\dots$$




$$3 + 3 = \dots\dots$$



Name: .....

1 Nutze die Kraft der Fünf. Wie viele sind es zusammen?




$$6 + 3 = \dots 9 \dots$$



$$5 + 5 = \dots 10 \dots$$



$$8 + 1 = \dots 9 \dots$$



$$5 + 3 = \dots 8 \dots$$



$$3 + 3 = \dots 6 \dots$$